

Chapitre 2 – Leçon 3

Exercices

Leçon 3 - Exercices

Exercice 2-1

♠ A R D

♥ D V 9

♦ A 5 2

♣ V 7 4 3



Entame : Roi de Carreau

♠ V 9 4

♥ R 10 8

♦ 7 6 3

♣ A R D 2

a) Dénombez, couleur par couleur, vos cartes maîtresses

	cartes maîtresses
Pique	
Cœur	
Carreau	
Trèfle	

a) Dénombrer, couleur par couleur, vos cartes maîtresses

	cartes maîtresses
Pique	
Cœur	
Carreau	
Trèfle	

b) Dénombrer, couleur par couleur, vos levées sûres

	Levées sûres
Pique	
Cœur	
Carreau	
Trèfle	

c) Situez ces levées sûres

	Nord	Sud
Pique		
Cœur		
Carreau		
Trèfle		

Exercice 2-1

♠ A R D
 ♥ D V 9
 ♦ A 5 2
 ♣ V 7 4 3





Entame : Roi de Carreau


♠ V 9 4
 ♥ R 10 8
 ♦ 7 6 3
 ♣ A R D 2


Exercice 2-2

Dans quel ordre devez-vous jouer les cartes des couleurs suivantes ?

		Nord	Sud
R 7  A D V 2	1ère levée		
	2ème levée		
	3ème levée		
	4ème levée		

		Nord	Sud
A V 5 3  R D 4	1ère levée		
	2ème levée		
	3ème levée		
	4ème levée		

		Nord	Sud
A R V 4 3  D 10 6	1ère levée		
	2ème levée		
	3ème levée		
	4ème levée		
	5ème levée		

		Nord	Sud
R V 2  A D 10 4 3	1ère levée		
	2ème levée		
	3ème levée		
	4ème levée		
	5ème levée		

Exercice 2-3

Quel score marquez-vous quand vous réalisez :

- Votre contrat de 7 levées + 2 levées supplémentaires ?
- Votre contrat de 9 levées + 1 levée supplémentaire ?
- Votre contrat de 8 levées + 1 levées supplémentaire ?

Exercice 2-4

L'adversaire joue un contrat de neuf levées. Quelle est votre entame ?

Il faut entamer dans la couleur susceptible de procurer le maximum de levées :

Main 1 :

♠ A 3 2	<input type="text"/>
♥ D V 10 9 8	<input type="text"/>
♦ 5 4	<input type="text"/>
♣ A 6 2	<input type="text"/>

Main 2 :

♠ R D V 8 5	<input type="text"/>
♥ R 6	<input type="text"/>
♦ D 7 4	<input type="text"/>
♣ 6 5 3	<input type="text"/>