

Chapitre 5 - Leçon 16

Exercices

Chapitre 5 - Leçon 16

Exercice N° 5 - 6

Quel contrat Sud doit-il choisir ?

♠ 9 7 4 2
♥ 8 3
♦ A R D 2
♣ A 5 2

A 4 2
8 2
R V 9 7 4 3
A D

V 5 2
A 8
R D 5 2
A V 9 4

A 4
A 3
R D V 9 8 6
R V 4

♠ : 4 Point H
♥ : 4
♦ : 2
♣ : 3
: 13

♠ : 1 Point H
♥ : 3
♦ : 6
♣ : 3
: 9

♠ : 2 Point H
♥ : 3
♦ : 3
♣ : 5
: 9

♠ : 4 Point H
♥ : 4
♦ : 2
♣ : 3
: 7



Chapitre 5 - Leçon 16

Exercice N° 5 - 7

Calculez les scores obtenus en cas de réussite des contrats :

$1 \spadesuit + 2 =$

$3 \spadesuit =$

$3SA =$

$2 \spadesuit + 3 =$

$4 \clubsuit + 1 =$

$5 \clubsuit =$

$1 \clubsuit + 5 =$

$6 \clubsuit =$

$6 \spadesuit =$

$4 \spadesuit + 3 =$

















$7 \spadesuit =$

$6 \clubsuit + 1 =$

Chapitre 5 - Leçon 16

Exercice N° 5 - 8

On joue à SA et c'est Ouest qui est en main

	 V 5  9 3  -  -	
 -  -  A R D  2	<div style="background-color: #00FF00; padding: 5px; display: inline-block;"> N O E S </div>	 -  -  4  A R 8
	 -  4 2  7  5	

Combien Est-Ouest réalise de levées ?

Combien Nord-Sud réalise de levées ?


















On joue à l'atout  et Ouest joue l'As de 

Combien Est-Ouest réalise de levées ?

Combien Nord-Sud réalise de levées ?

Chapitre 4 – Leçon 16

Exercice N° 5 - 9 : Déterminer les étapes qui conduisent à l'annonce du contrat

Est donneur	 D 5 4 3  5 2  R V 2  R 6 5 2	
 9 6  D 10 6  D 10 8 7 6  9 4 3		 A 2  A R V 9  9 4 3  V 10 8 7
	 R V 10 8 7  8 7 4 3  A 5  A D	

Est ouvre (13H)

